
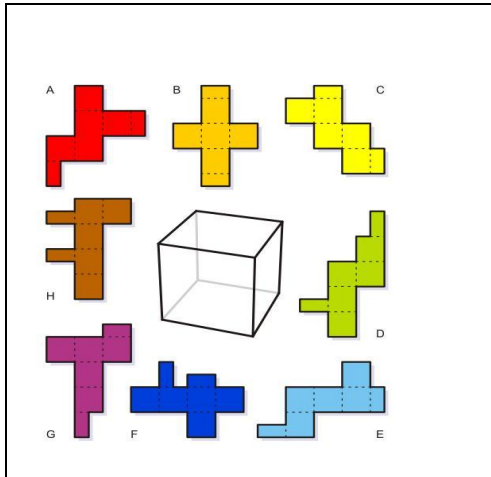


Päkapikula tööleht 3. klassile

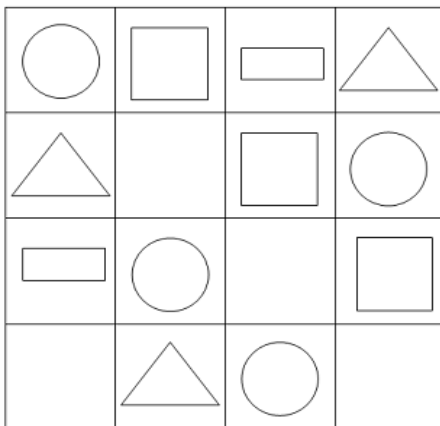
1. Jaota 3 sirgega pilt seitsmeks osaks nii, et igasse ossa jääks 1 õun.



2. Millistest pinnalaotustest saab voltida kuupi?

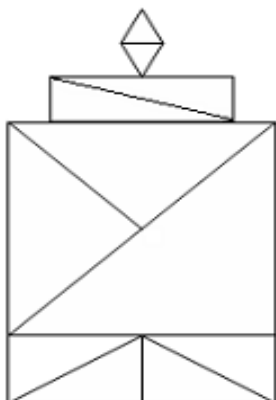


3. Täida tühjad ruudud sobivate kujunditega.



4. Mitu kolmnurka ?

Mitu ristkülikut?



5. Arvuta järgmiste maiustuste väärtused.

Tähestiku tähtedel on järgmised arvilised väärtused:

A – 1	G – 6	L – 11	R – 16	Õ – 21
B – 2	H – 7	M – 12	S – 17	Ä – 22
C – 3	I – 8	N – 13	T – 18	Ö – 23
D – 4	J – 9	O – 14	U – 19	Ü – 24
E – 5	K – 10	P – 15	V – 20	

ÕUNAD $21 + 19 + 13 + 1 + 4 = \dots\dots\dots$

KOMMID

LIMONAAD

KÜPSIS

MARMELAAD

HALVAA

6. Järjesta eelnevad maiustused alates soodsaimast.

1.

2.

3.

4.

5.

6.